

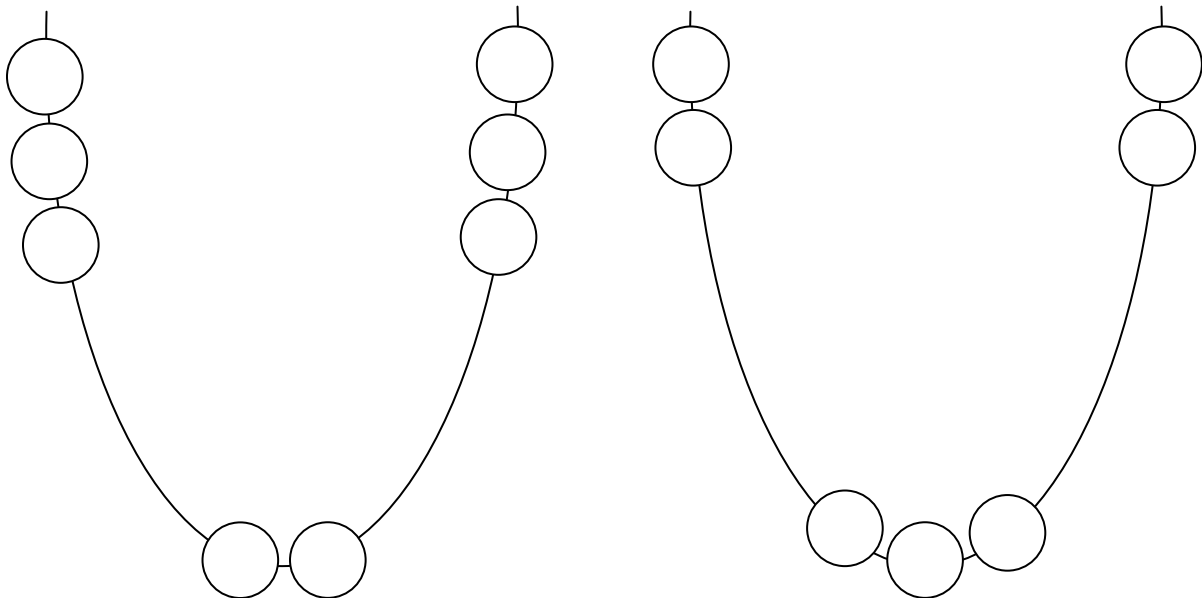


# POČETNÍ PŘEDSTAVIVOST

1. Na které misce je více jablíček? Zakresli do čtverce tolik teček, kolik jablíček vidíš.



2. Na kterém řetízku je více korálek?  
Doplň korálky tak, aby jich bylo na obou stejně.



3. Dokresli do okénka takový symbol, který se tam nejvíce hodí:


# POČETNÍ PŘEDSTAVIVOST

## 4. Rozstříhej čtverce a:

- seřaď od nejmenšího po největší
- seřaď od největšího po nejmenší
- urči, který je nejmenší
- urči, který je největší
- vyber dva a urči, který z nich je menší
- vyber dva a urči, který z nich je větší
- vyber tři a urči, který z nich je malý, který menší a který nejmenší
- vyber tři a urči, který z nich je velký, který větší a který největší
- seřaď od nejsvětlejší po nejtmavší,...

